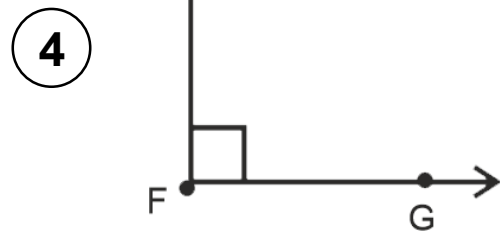
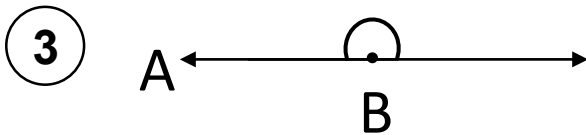
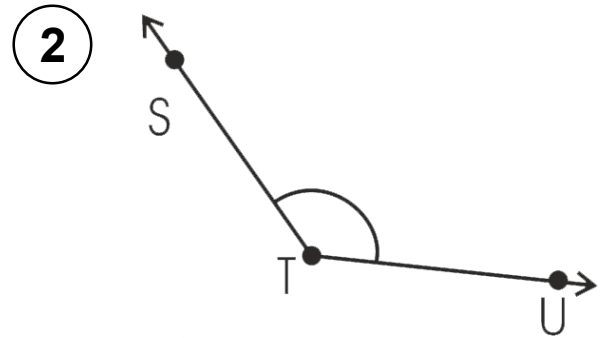
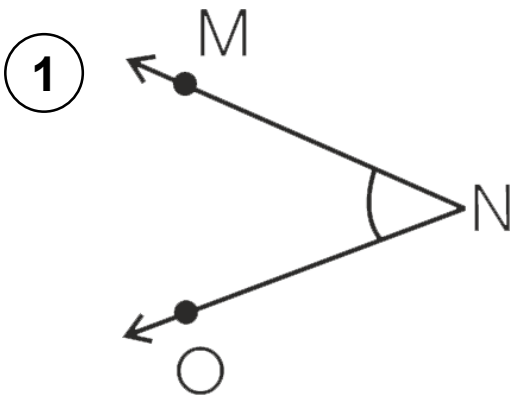


वर्कशीट

कोण

1. दिए गये कोणों को मापें और उनके प्रकार का नाम लिखें।



2. दिए गये चित्रों में कौन सा कोण दिखाई दे रहा है। उसके प्रकार का नाम बताइए।

