

वर्कशीट

क्षेत्रफल - आयत और वर्ग

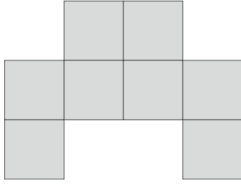
1. दी गई आकृतियों का परिमाण और क्षेत्रफल बताइए।

1 सेमी.

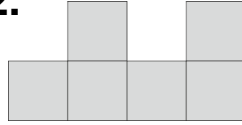


1 सेमी.

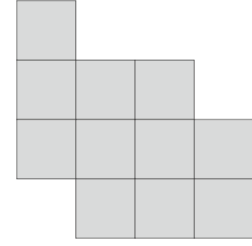
1.



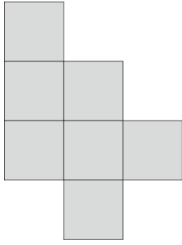
2.



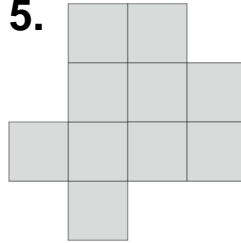
3.



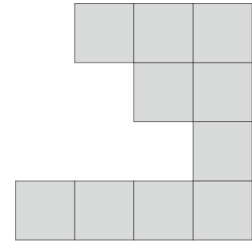
4.



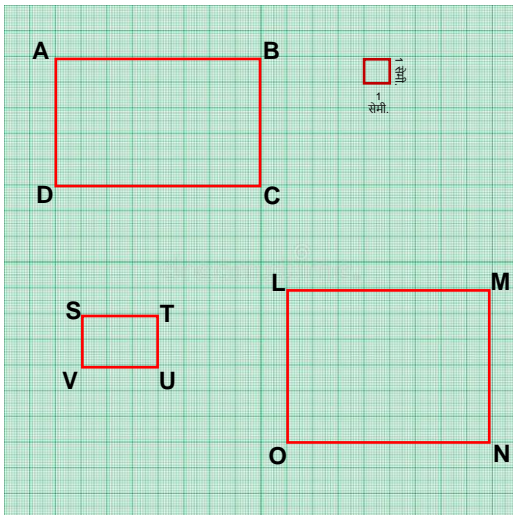
5.



6.



2. दी गई आकृतियों के आधार पर तालिका को पूरा करिए।



आकृति का नाम	लम्बाई	चौड़ाई	क्षेत्रफल

3. एक वर्गाकार खेत की एक भुजा 65 मीटर लम्बी है तो खेत का क्षेत्रफल क्या होगा ?
4. एक आयताकार बगीचे की लम्बाई 92 मीटर और चौड़ाई 54 मीटर है। बगीचे का क्षेत्रफल कितना होगा, बताइए।