

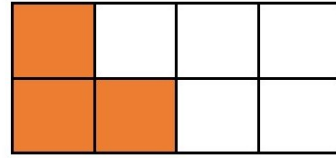
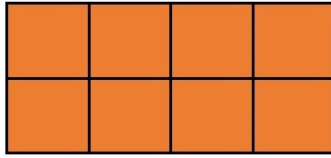

# वर्कशीट

## भिन्नों का रूपांतरण।

1. दी गई अनुचित भिन्न का चित्र बनाइए और इसे मिश्रित भिन्न में भी लिखिए।

$$\frac{12}{7}$$

1. चित्र में दिखाई गई भिन्न को अनुचित भिन्न और मिश्रित भिन्न में लिखिए।



1. सही जोड़ी बनाइए।

I.  $\frac{4}{3}$

a.  $2\frac{2}{5}$

II.  $\frac{7}{2}$

b.  $2\frac{1}{4}$

III.  $\frac{12}{5}$

c.  $1\frac{1}{3}$

IV.  $\frac{9}{4}$

d.  $6\frac{1}{2}$

V.  $\frac{13}{2}$

e.  $3\frac{1}{2}$