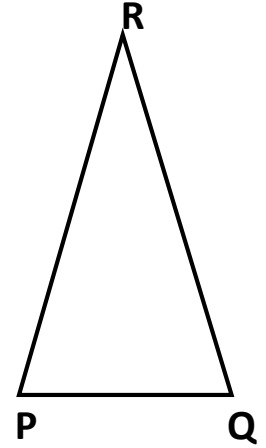
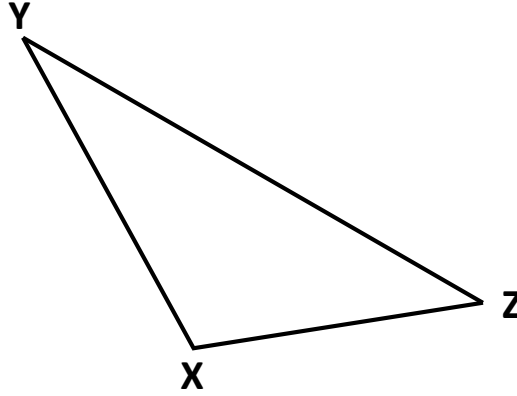
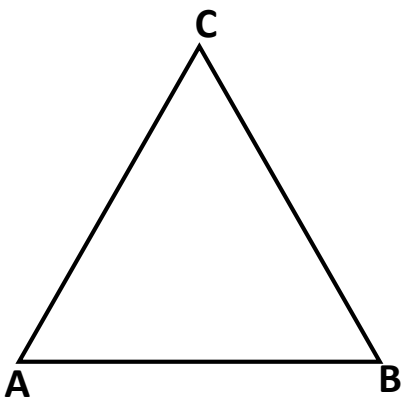


वर्कशीट

त्रिभुज के प्रकार

1. दिए गये त्रिभुजों की भुजाओं को मापिए और उनके प्रकार का नाम लिखिए।



2. एक त्रिभुज की तीनों भुजाएं समान हैं तो उस त्रिभुज का प्रत्येक कोण कितने डिग्री का होगा?
3. सही जोड़ी बनाओ।

कॉलम A	कॉलम B
1. त्रिभुज जिसकी सभी भुजाएं असमान हों	A. समकोण त्रिभुज
1. त्रिभुज जिसकी केवल दो भुजाएं समान हों	A. अधिक कोण त्रिभुज
1. त्रिभुज जिसमें एक समकोण हो	A. समद्विबाहु त्रिभुज
1. त्रिभुज जिसमें एक अधिक कोण हो	A. विषमबाहु त्रिभुज

4. अपनी कॉपी में अधिक कोण त्रिभुज और न्यूनकोण त्रिभुज का चित्र बनाएं।